

Užduotys iš pasirengimo IT VBE knygos

1. Receptas


Faile [Receptas.doc](#) pateiktas melionų ir braškių gėrimo receptas. Naudodamiesi automatine tekstų rengyklės priemone, pagal pateiktus nurodymus ir atliktos užduoties pavyzdį sunumeruokite gėrimo ingredientų paveikslus.

Nurodymai

- Paveikslus numeruokite arabiškais skaičiais ir rašykite juos po paveikslais.
- Nurodykite, kad prie numerių būtų rašoma (sukurta) etiketė „pav.". Nepamirškite lietuvių kalbos rašybos taisyklių (numeris turi būti nurodomas prieš etiketę).
- Paveikslų numerius eilutėje išdėstykite naudodamiesi sukurtais tabuliatoriais.


Atliktos užduoties pavyzdys

MELIONŲ IR BRAŠKIŲ GĖRIMAS




Gerimui pagaminti reikės šių produktų:


- 0,5 kg braškių (1 pav.),
- 0,5 meliono (2 pav.),
- 1,5 l limonado arba citrinų gėrimo su ledo gabaliukais (3 pav.).



1 pav.



2 pav.



3 pav.

Braskes nuplaukite, dideles braskes perpjaukite per pusę. Meliono minkštimą išskobkite šaukštu. Paruoštus vaisius sudėkite į dubenį (arba į išskobtą arbūzą), supilkite limonadą ir citrinų gėrimą, sudėkite ledo gabaliukus.

Toks gėrimas tinka karštą vasaros dieną. Vietoj braškių galima rinktis kitas uogas ar vaisius.

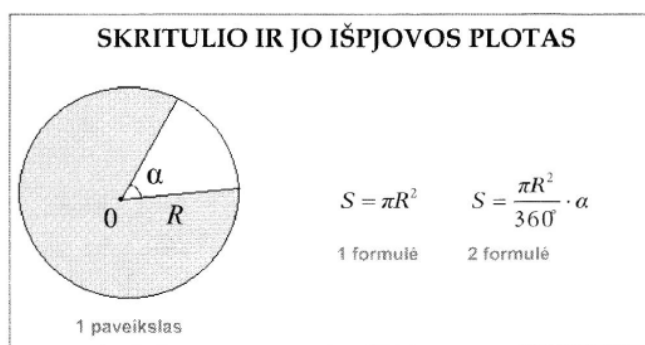
2. Skritulys

Faile [Skirtulys.doc](#) pateiktas skritulio ir jo išpjovos paveikslas bei jų plotų formulės. Naudodamiesi automatine tekstų rengyklės priemone, pagal pateiktus nurodymus ir atliktos užduoties pavyzdį sunumeruokite paveikslą ir formules.

Nurodymai

- Paveikslą ir formules numeruokite arabiškais skaičiais po objektais.
- Nurodykite, kad prie paveikslo numerio būtų rašoma etiketė „paveikslas“, prie formulių numerių – etiketė „formulė“. Nepamirškite lietuvių kalbos rašybos taisyklių (numeris turi būti nurodomas prieš etiketę).

Atliktos užduoties pavyzdys



3. Valstybių plotas

Naudodamiesi automatine tekstų rengyklės priemone, faile [Valstybiu_plotas.doc](#) esančias lenteles sunumeruokite pagal pateiktus nurodymus ir atliktos užduoties pavyzdį.

Nurodymai

- Lenteles numeruokite arabiškais skaičiais prieš lentelę.
- Nurodykite, kad prie numerių būtų rašoma (sukurta) etiketė „lentelė“. Nepamirškite lietuvių kalbos rašybos taisyklių (numeris turi būti nurodomas prieš etiketę).

Atliktos užduoties pavyzdys

| PLOTAI | |
|---|---|
| Lietuvos plotas yra 65,3 tūkst. km ² . | |
| 1 lentelė. Valstybės, kurių plotas didesnis nei Lietuvos | |
| Valstybė | Teritorijos plotas tūkst. km ² |
| Ukraina | 603,7 |
| Prancūzija | 547,0 |
| Ispanija | 504,8 |
| Švedija | 450,0 |
| Vokietija | 357,0 |
| Suomija | 338,1 |
| 2 lentelė. Valstybės, kurių plotas panašus į Lietuvos | |
| Valstybė | Teritorijos plotas tūkst. km ² |
| Čekija | 78,9 |
| Airija | 70,3 |
| Latvija | 65,6 |
| Kroatija | 56,5 |
| Slovakija | 49,0 |
| 3 lentelė. Valstybės, kurių plotas mažesnis nei Lietuvos | |
| Valstybė | Teritorijos plotas tūkst. km ² |
| Estija | 45,2 |
| Danija | 43,1 |
| Olandija | 41,5 |
| Šveicarija | 41,3 |
| Belgija | 30,5 |
| Slovenija | 20,3 |

4. Funkcijų grafikai

Naudodamiesi automatine tekstų rengyklės priemone, faile [Funkciju_grafikai.doc](#) esančias formules ir diagramas sunumeruokite pagal pateiktus nurodymus ir atliktos užduoties pavyzdį.

Nurodymai

- Formules ir diagramas numeruokite arabiškais skaičiais virš objektų.
- Pasirinkite formulių etiketę „pavyzdys“, diagramų etiketę „funkcijos grafikas“. Nepamirškite lietuvių kalbos rašybos taisyklių (numeris turi būti nurodomas prieš etiketę).

Atliktos užduoties pavyzdys

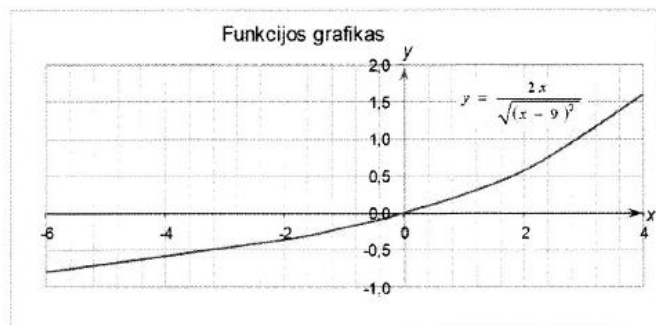
UŽDUOTIS

Raskite funkcijos apibrėžimo sritį ir apskaičiuokite funkcijos reikšmes taškuose -5, -2, -1, 0, 2.

1 pavyzdys

$$f(x) = \frac{2x}{\sqrt{(x-9)^2}}$$

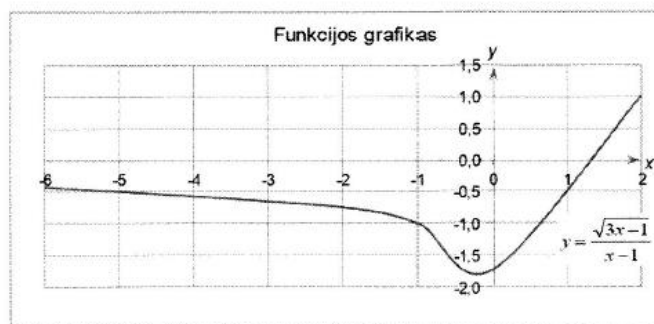
1 funkcijos grafikas



2 pavyzdys

$$f(x) = \frac{\sqrt{3x-1}}{x-1}$$

2 funkcijos grafikas



5. Ekonomikos schemas

Naudodamiesi automatinėmis tekstų rengyklės priemonėmis, faile [Ekonomikos_schemas.doc](#) esantį tekstą sutvarkykite pagal pateiktus nurodymus ir atliktos užduoties pavyzdį.

Nurodymai

- Schemų pavadinimams pritaikykite stilių *Antraštė 1*.
- Schemų pavadinimus sunumeruokite arabiškais skaičiais.
- Schemas sunumeruokite po jomis arabiškais skaičiais įtraukdami skyriaus numerį ir pasirinkdami skyriklį – tašką.
- Pasirinkite schemų (sukurtą) etiketę „schema“. Nepamirškite lietuvių kalbos rašybos taisyklių (numeris turi būti nurodomas prieš etiketę).

Atliktos užduoties pavyzdys

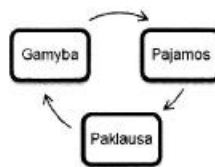
EKONOMIKOS SCHEMOS

1. Gamybos išteklių ir jų duodamos pajamos



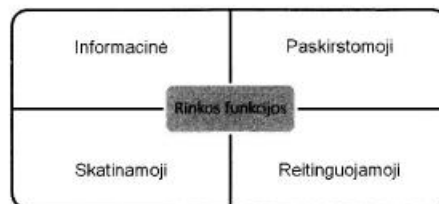
1.1 schema

2. Gamybos, pajamų ir paklausos sąrašas



2.1 schema

3. Rinkos funkcijos



3.1 schema